

Institución educativa

Nombre y Apellido

Grado y Sección

Fecha

INDICACIONES

- Lee con mucha atención cada pregunta, puedes volver a leerla si lo necesitas.
- Resuelve cada pregunta y **marca con una X** la alternativa correcta.
- Si te equivocas, puedes borrar con cuidado y volver a marcar.
- Si tienes dudas durante el desarrollo de la evaluación, puedes preguntar a tu maestro(a).
- Empieza a resolver la evaluación cuando te indique tu maestro(a), recuerda resolverla en silencio.

Veamos y resolvamos juntos el siguiente ejemplo:

Si tengo 14 pelotas y mi papá me regala 9 más.

¿Cuántas pelotas tengo en total?

- a) 20
- b) 23
- c) 19

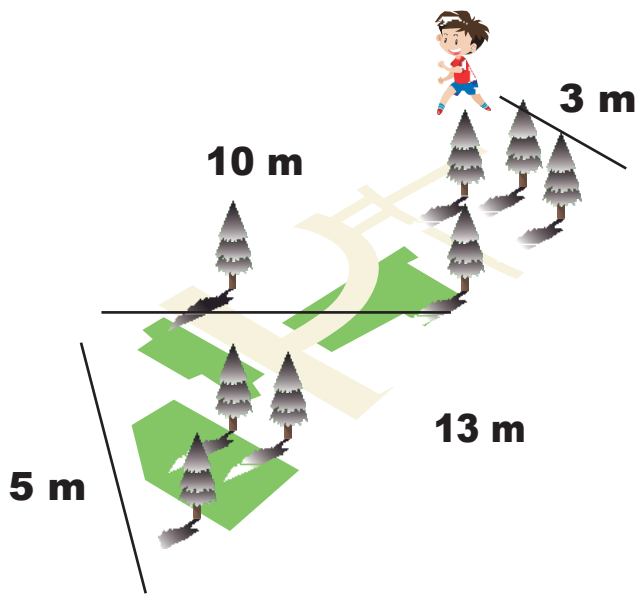
1. En la I.E. “Pasitos de Luz” estudian 89 estudiantes repartidos en el turno mañana y tarde. Si 34 estudiantes asisten en el turno mañana, ¿cuántos estudiantes asisten en el turno tarde?

- a) 55 b) 123 c) 65

2. ¿Cuál es igual a 38 unidades?

- a) 38 decenas
 b) 2 decenas y 18 unidades
 c) 2 decenas y 9 unidades

3. Se observa las medidas del parque. Si Julio da dos vueltas alrededor de este parque. ¿Cuántos metros recorrerá?



- a) 62 m
 b) 52 m
 c) 31 m

4. En la secuencia

68

65

62

56

53

¿Qué número falta en el recuadro

- a) 57
- b) 59
- c) 63

Según la información del cuadro, responde las preguntas 5 y 6

	Estudiantes	Cantidad de caramelos
	Mariela	27
	Marcos	35
	Mónica	28

5. ¿Cuántos caramelos tienen entre los tres?

- a) 90 caramelos
- b) 62 caramelos
- c) 63 caramelos


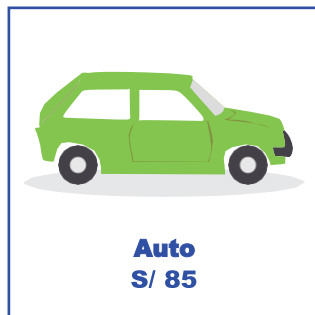
6. ¿Cuántos caramelos tiene Marcos más que Mariela?

- a) 8 caramelos
- b) 35 caramelos
- c) 62 caramelos

7. En un corral hay 48 animales. 15 son gallinas, 12 son pavos y el resto son cuyes. ¿Cuántos cuyes hay en total?

- a) 27 cuyes
- b) 21 cuyes
- c) 75 cuyes

Observa el precio de cada juguete y responde a las preguntas 8, 9 y 10:



8. ¿Qué juguete tiene el triple de precio que la pelota?

- a) El trompo
- b) El robot
- c) El auto

9. Si tengo 58 soles, ¿cuánto dinero me falta para comprar el auto?

- a) 26 soles
- b) 25 soles
- c) 27 soles

10. ¿Cuál de las siguientes cantidades alcanza para comprar la pelota?

a) 

b) 

c) 

11. En un cumpleaños había 19 globos rojos y 34 azules. Se reventaron 16 globos azules ¿Cuántos globos azules quedaron?

- a) 18 globos azules
- b) 28 globos azules
- c) 37 globos azules

Con la información de la lista de precios responde las preguntas 12 y 13

LISTA DE PRECIOS	
Muñeca	S/ 21
Carrito	S/ 16
Trompo	S/ 4
Pelota	S/ 9
Tren	S/ 6



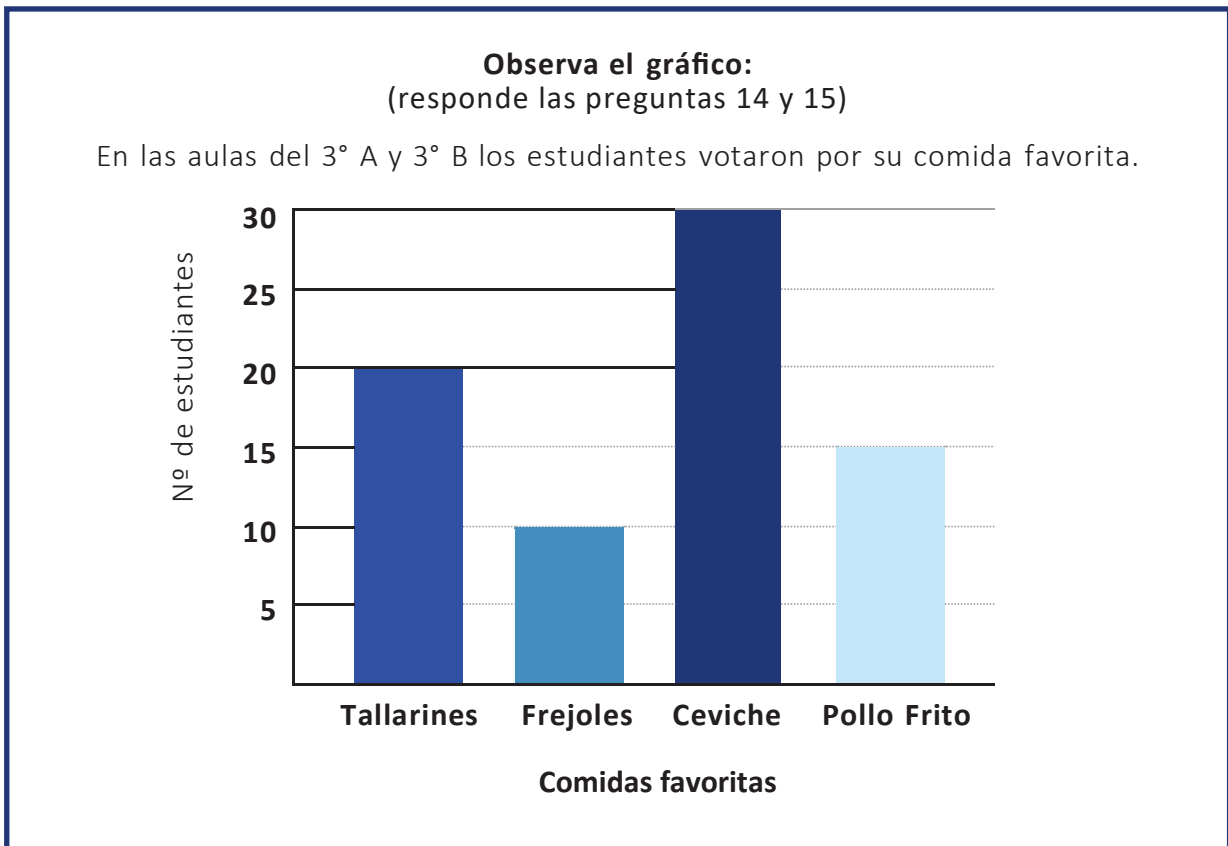
Mary tiene 35 soles

12. ¿Qué juguetes podría comprar Mary?

- a) El tren, la muñeca y la pelota
- b) El trompo, la muñeca y la pelota
- c) La muñeca y el carrito

13. ¿Cuánto dinero le quedaría a Mary si compra la muñeca y el tren?

- a) 5 soles
- b) 8 soles
- c) 10 soles



14. ¿Cuántos estudiantes prefieren tallarines?

- a) 30
- b) 20
- c) 15

15. ¿Cuál de las alternativas es la correcta?

- a) Hay más de 20 estudiantes que tienen como comida favorita a los tallarines.
- b) Hay 5 estudiantes que prefieren más los tallarines que los que prefieren el pollo frito.
- c) Hay 15 estudiantes que prefieren más el ceviche que los que prefieren frejoles.

16. Observa las imágenes de los siguientes objetos:



¿A qué cuerpos geométricos se parecen?

- a) Esfera, cilindro, cubo
- b) Esfera, cono, cubo
- c) Círculo, cilindro, cuadrado